


Naša zemja – wobzorosměry










1. Zapisaj do kašćikow při wětrnicy skrótšenki hłownych wobzorosměrow!



2. Što je kompas? Nakřižuj prawu wotmołwu!

- instrument k měrjenju wětra
- nastroj k postajenju wobzorosměra
- dróha, kotraž wjedže přez horinski hrjebjeń

3. Do kotrych wobzorosměrow pokazuja kłoki?

- | | | |
|--|--|--|
| a)  _____ | b)  _____ | c)  _____ |
| d)  _____ | e)  _____ | f)  _____ |
| g)  _____ | h)  _____ | i)  _____ |